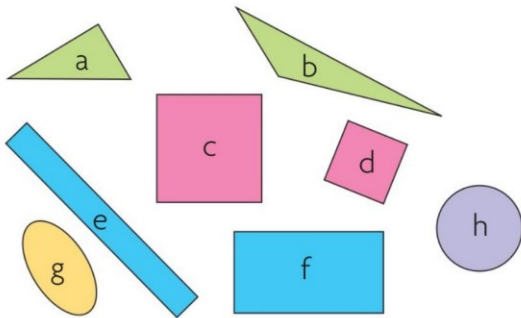


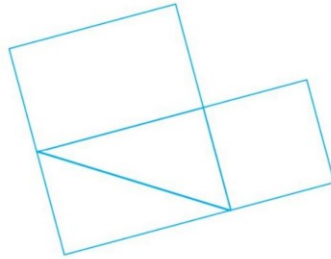

Dico-maths A Carrés, rectangles, triangles, cercles



- Les **cercles** sont ronds partout pareil.
h est un cercle.
- Les **triangles** ont tous 3 sommets et 3 côtés.
a et b sont des triangles.
- Les **carrés** et les **rectangles** ont tous 4 côtés.
c et d sont des carrés.
e et f sont des rectangles.

Dico-maths B Reconnaissance de figures dans un assemblage

Pour reconnaître une figure dans un assemblage,
je peux tourner la tête ou la feuille.



Cet assemblage est constitué
d'un carré, d'un rectangle et
de deux triangles identiques
disposés différemment.

Je fais le bilan

Date : _____

1 Utilise un gabarit pour
tracer un triangle.

2 Trace un rond de couleur à l'intérieur de chaque figure.

● triangle ● carré ● rectangle ● autre

